

設問3 次の設問で正しいものを選び記入欄に(1)～(3)を選んで記入しなさい。

例題 浄土真宗のご本尊を次の中から選んで下さい。 1
(1) 阿弥陀如来 (2) 大日如来 (3) 釈迦如来

問1 京都の知恩院は何宗の本山ですか。 (1) 天台宗 (2) 真言宗 (3) 浄土宗 3

問2 『正信偈』は何宗で拝読されるものですか。 (1) 真言宗 (2) 浄土真宗 (3) 日蓮宗 2

問3 仏になることのできる素質・能力をどのように呼びますか。 (1) 業 (2) 輪廻 (3) 仏性 3

問4 右の菩薩は何菩薩ですか。 (1) 地藏菩薩 (2) 聖観音菩薩 (3) 如意輪観音菩薩 1

問5 この脇侍の右側はどなたですか。 (1) 龍樹 (2) 最澄 (3) 智顗 3

問6 この光背と台座を持つ仏像は何宗のものですか。 (1) 真宗大谷派 (2) 浄土真宗本願寺派 (3) 浄土宗 2

問7 右の印相は何如来のものですか。 (1) 大日如来 (2) 阿弥陀如来 (3) 釈迦如来 1

問8 卒哭忌とはいつの忌日ですか。 (1) 四十九日(七七日) (2) 百ヶ日 (3) 一周忌 2

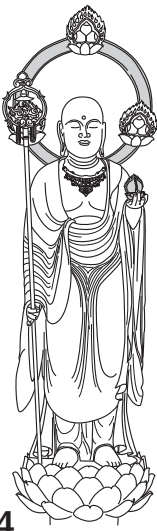
問9 神社・神官にお渡しする金封の表書きとして適切なものはどれですか。 (1) 御仏前 (2) 献花料 (3) 玉串料 3

問10 右の金工技法で表現される○の連続の文様を何と呼びますか。 (1) 蹴り彫り (2) 魚々子 (3) 薄肉彫り 2


問11 箱引き出しの角を右のように組み継ぎすることを何とよびますか。 (1) 矧ぎ (2) フラッシュ (3) ロッキング 3

問12 仏壇公正競争規約では芯材に木材の色を着色して仕上げるものを何と呼びますか。 1
(1) 調着色 (2) 調プリント (3) 風着色


問4




問5



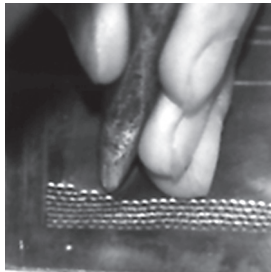
問6



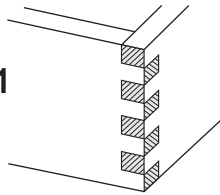
問7



問10



問11



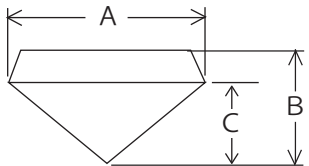
採点欄

--	--

(前頁より設問の続き 設問3 次の設問で正しいものを選び回答欄に記入しなさい。)

問13 ウォールナットの産出地はどこですか。 (1)アメリカ (2)ブラジル (3)インドネシア

1



問14 打敷の幅はどこで図りますか。 (1)A (2)B (3)C

1

問14

問15 右の本連珠数は何宗のものですか。 (1)天台宗 (2)臨済宗 (3)日蓮宗

3

問15



問16 右の珠数玉はどのような素材ですか。 (1)金剛菩提珠 (2)天竺菩提珠 (3)星月菩提珠

3

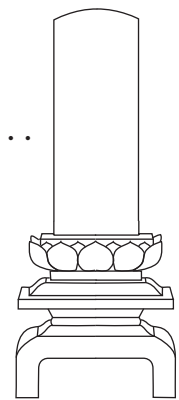
問16



問17 右の位牌の名称は何ですか。 (1)春日型 (2)京中台 (3)呂門型

3

問17



問18 神道の神号の「大人命」は何とよびますか。 (1)おとないのち (2)だいじんめい (3)うしのみこと

3

問19 右の梵字は何宗の位牌に用いられますか。 (1)真言宗 (2)浄土宗 (3)浄土真宗

1

問19



問20 真鍮はどのような合金ですか。 (1)銅と銀 (2)銅と金 (3)銅と亜鉛

3

問21 渦巻き型線香が使われるのは主にいつですか。 (1)中陰 (2)施餓鬼会 (3)灌仏会

1




問22

問22 瓶子は何を入れる神具ですか。 (1)水 (2)酒 (3)塩

2

問23



問23 右の神殿は何造りですか。 (1)大社造り (2)神明造り (3)住吉造り

2

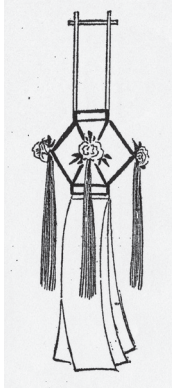
問24 氏名などを明示したものを着用してお客様を訪問することを定める法律は何ですか。 (1)景品表示法 (2)特定商取引法 (3)個人情報保護法

2

問25 右に見える燈籠は何と呼びますか。 (1)切子燈籠 (2)高燈籠 (3)住吉

1

問25



採点欄

--	--